

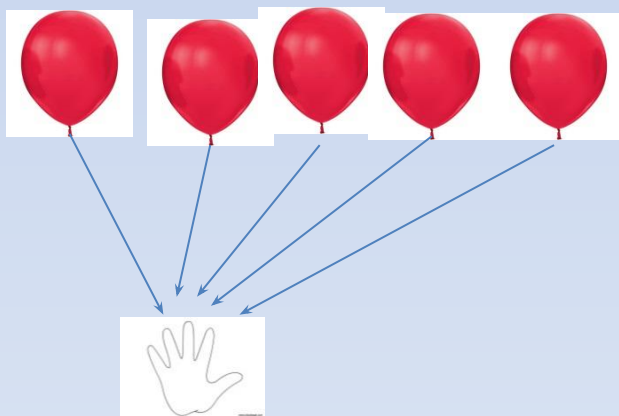
## ADDIZIONE E SOTTRAZIONE: OPERAZIONI INVERSE

GUARDARE ON LINE IL VIDEO SU QUESTO LINK

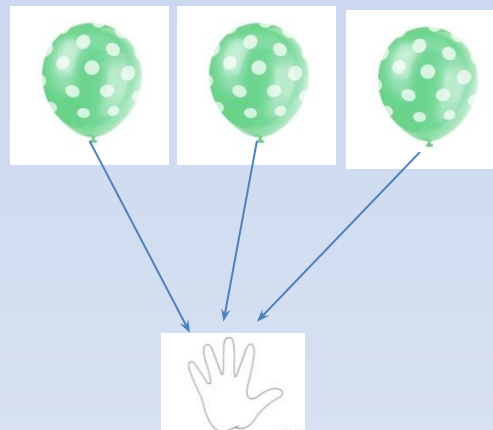
<https://youtu.be/kG9GDimjax0>

**L' ADDIZIONE E LA SOTTRAZIONE SONO OPERAZIONI INVERSE,  
cioè sono l'una il CONTRARIO dell'altra.**

**SE TOGLI O AGGIUNGI LA STESSA QUANTITA', LA SITUAZIONE NON CAMBIA.**

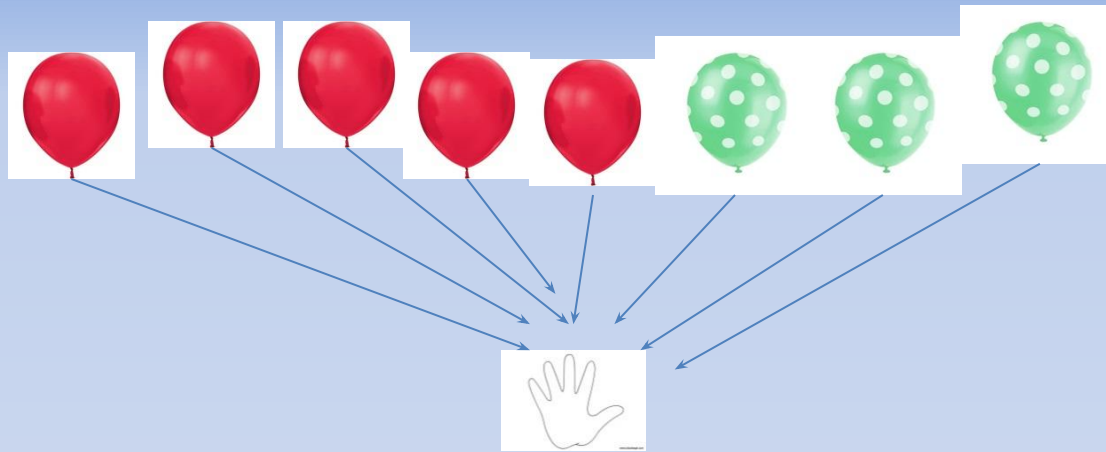


IN QUESTO GRUPPO CI SONO  
**5 PALLONCINI ROSSI**



IN QUESTO GRUPPO CI SONO  
**3 PALLONCINI VERDI**

**METTO I PALLONCINI TUTTI INSIEME**



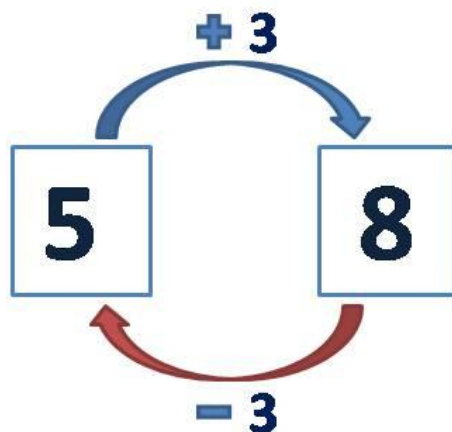
CON I NUMERI HO QUESTA OPERAZIONE:  $5 + 3 = 8$

SE **TOLGO** I PALLONCINI VERDI RIMANGONO I PALLONCINI ROSSI:  $8 - 3 = 5$

QUINDI:  $8 - 3 = 5$  PERCHÈ  $5 + 3 = 8$

## RAPPRESENTO CON UN UNICO DIAGRAMMA

### OPERAZIONI INVERSE



**La sottrazione è l'operazione inversa dell'addizione.  
Osservando i regoli è facile capire il perché.**

