

Unità e Decine

L' abaco

Esercizi

Bisogna disegnare

Le palline giuste

Negli abachi, colorando

In rosso le decine e in

Blu le unità. Nel terzo e

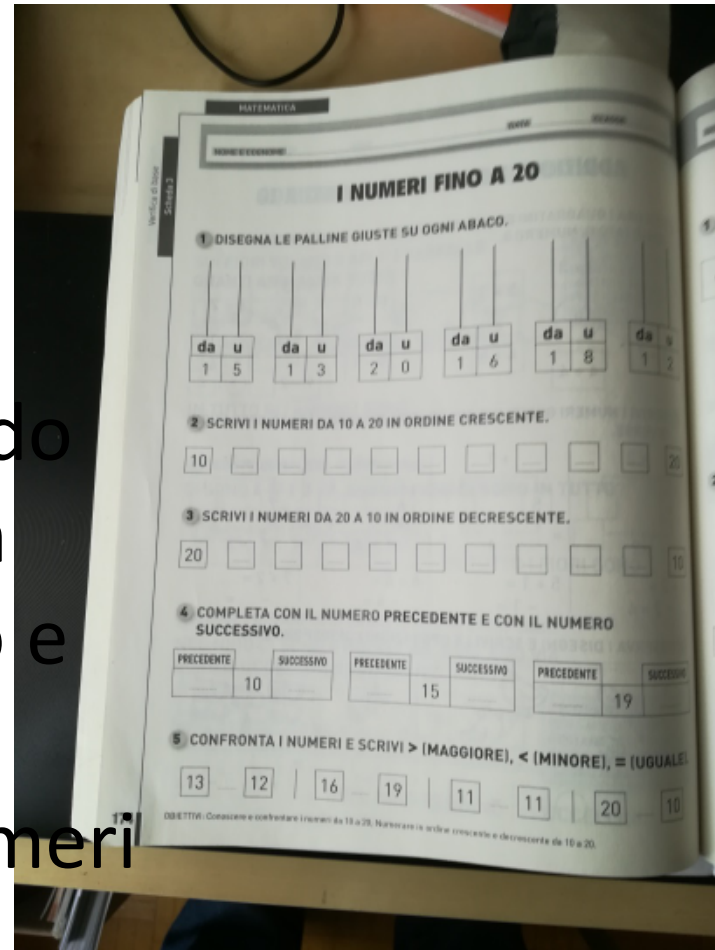
Nel quarto esercizio

bisogna inserire i numeri

In ordine crescente e

decrescente .Nel quinto e sesto esercizio

Inseriamo i segni $>$ $<$ $=$.



Esercizi

Dopo aver raggruppato le palline le rappresentiamo sul proprio abaco (in rosso e in blu). Infine inseriamo nel grafico i numeri in ordine crescente e decrescente.

MATEMATICA

CLASSE _____ DATA _____

I NUMERI FINO A 20

COLORA 10 PALLINE E RAGGRUPPA PER 10. POI RAPPRESENTA OGNI NUMERO SUL SUO ABACO.

da u
1 2

da u
1 1

da u
1 2

da u
1 3

SCRIVI I NUMERI DA 10 A 20 IN ORDINE CRESCENTE.
POI SCRIVI I NUMERI DA 20 A 10 IN ORDINE DECRESCENTE.

CRESCENTE

DECRESCENTE

RICORDA
ORDINE CRESCENTE: DAL PIÙ PICCOLO (MINORE) AL PIÙ GRANDE (MAGGIORE).
ORDINE DECRESCENTE: DAL PIÙ GRANDE (MAGGIORE) AL PIÙ PICCOLO (MINORE).

OBIETTIVI: Conoscere e confrontare i numeri da 10 a 20; Numerare in ordine crescente e decrescente da 10 a 20.

175

48







esercizi

Contando le
cannucce
scopriamo i
numeri (in rosso
le decine e in
blu le unità)

I NUMERI

IL NUMERO MISTERIOSO...

● GUARDA LE CANNUCCE, COMPLETA LA TABELLA
E SCOPRI IL NUMERO.

	= <table border="1"><tr><td>da</td><td>u</td></tr><tr><td> </td><td> </td></tr></table> = <input type="text"/>	da	u		
da	u				
	= <table border="1"><tr><td>da</td><td>u</td></tr><tr><td> </td><td> </td></tr></table> = <input type="text"/>	da	u		
da	u				
	= <table border="1"><tr><td>da</td><td>u</td></tr><tr><td> </td><td> </td></tr></table> = <input type="text"/>	da	u		
da	u				
	= <table border="1"><tr><td>da</td><td>u</td></tr><tr><td> </td><td> </td></tr></table> = <input type="text"/>	da	u		
da	u				
	= <table border="1"><tr><td>da</td><td>u</td></tr><tr><td> </td><td> </td></tr></table> = <input type="text"/>	da	u		
da	u				
	= <table border="1"><tr><td>da</td><td>u</td></tr><tr><td> </td><td> </td></tr></table> = <input type="text"/>	da	u		
da	u				

48